

Задания на летние
каникулы
для подготовки
во 2 класс

Задание № 1 Списать или написать под диктовку

Весна.

Весна. Тёплый денёк. Весело кричат грачи. Журчат ручейки.
Ребята идут на речку. По воде плывут льдины. Над водой летают чайки.
(21 слово)

$10 - 7 =$

$9 + 5 =$

$14 - 8 =$


$4 + 3 =$

$8 + 9 =$

$16 - 7 =$

Задача № 1

На клумбе распустились 6 жёлтых роз, а красных роз на 2 меньше.
Сколько красных роз распустилось на клумбе?



Задание № 3

Летом.


Лето. Вот деревня Воютино. На лугу корова Зорька. Она ест сочную траву. Наша дача у реки. Мы там ловим рыбу. Алеша поймал щуку и леща. (26 слов)

Дополни до 9

1	3	7	2	6	4	5	8	9
8								

Задача № 3

Маше надо полить 6 цветов. 3 цветка она уже полила. Сколько цветов осталось полить Маше?



Задание № 5

Дятел.

Стоял в лесу дуб. Прилетел к дубу дятел. Он выдолбил в стволе глубокое дупло. Лето в нём пожил, детей вывел и улетел.

(23 слова)

$$10 - 8 + 3 =$$


$$8 - 5 - 1 =$$

$$9 - 3 + 1 =$$

$$4 + 3 - 0 =$$

Задача № 5

Лена отгадала 4 загадки, а Света на 2 загадки больше. Сколько всего загадок отгадали девочки?



Задание № 6

Беда.


Щука плавала в тазу. Её поймал Витя. Подкрался рыжий кот Васька. Он цап лапой щуку. А у щуки зубы острые. Кот закричал.
(23 слова)

Дополни до 11

9	3	7	5	4	8	10	0	2	6	1	11
2											

Задача № 6

В концерте принимали участие 7 девочек, а мальчиков на 3 меньше.
Сколько всего детей участвовало в концерте?



Задание № 8

Дома.

Я учу уроки. На столе книги и альбом. Малыши Алёна и Дима играют. Они строят башню из кубиков. Собака Тёпа лапой сломала башню.

(24 слова)

$6 + 5 =$


$11 - 7 =$

$5 + 9 =$

$14 - 6 =$

Задача № 8

В конструкторе «Лего» 12 деталей красного и синего цвета. Деталей красного цвета – 5 штук. Сколько деталей синего цвета было в конструкторе?



Задание № 9

Шиповник.

В саду у бабушки Нюры рос шиповник. У шиповника острые шипы. Катюша уколола палец. Брат Андрей вынул занозу. Боль прошла. Девочка улыбнулась. (23 слова)

Дополни до 13

10	3	6	2	9	8	4	1	5	7
3									

Задача № 9

В магазин привезли 6 тортов со сливками, а с кремом на 2 меньше. Сколько тортов с кремом привезли в магазин?

A large grid of 20 columns and 20 rows for writing the answer to the math problem.

Задание № 10

Расти и радуй нас.

На краю поляны рос красивый цветок. Он пророс через толщу сухих листьев. Он покрыт мхом. Я убрал сухую листву. Расти и радуй нас. (27 слов)

$$1 + 9 + 5 =$$


$$8 - 5 + 7 =$$

$$10 - 7 + 5 =$$

$$9 + 3 + 2 =$$

Задача № 10

Для украшения классной комнаты к празднику надули 11 красных шаров и 9 синих. На сколько больше красных шаров, чем синих?



Задание № 11

Поездка к брату.

Митя приехал в Москву к брату Алёше. Алеша был лётчиком. Он показал Мите настоящий самолёт. Мите было очень интересно.

(22 слова)

$14 - 6 =$


$12 - 9 =$

$9 + 7 =$

$15 - 8 =$

Задача № 11

Катя заплела своей кукле 8 косичек, а Вера на 3 косички меньше, чем Катя. Сколько косичек заплела своей кукле Вера?



Задание № 15

Мёд.

Около липы кружит пчела. Она работает весь день. У брата Серёжи в саду пасека. Он дал нам мёд к чаю. Хорош душистый мёд! (24 слова)

$$8 + 2 - 5 =$$


$$7 - 4 + 6 =$$

$$8 - 2 + 3 - 1 =$$

$$9 + 1 - 4 + 2 =$$

Задача № 15

На праздничном столе было 9 пирожных. После праздника на столе осталось 3 пирожных. Сколько пирожных съели во время праздника?



Задание № 20

У старой сосны.

У старой сосны играли весёлые белки. Они были рады тёплому солнышку и тёплому лету. Рыжими стали у белок шубки. Зверюшки целый день резвились на солнышке. (28 слов)

$6 - 1 =$

$4 + 5 =$

$2 + 2 =$


$3 + 5 =$

$8 - 2 =$

$3 + 3 =$

Задача № 20

Стояло на полке 5 мишек. Одного из них взяли поиграть. Сколько мишек осталось на полке?



Задание № 21

Чудо.

Весной мы с мамой посадили лилию. Она должна была быть белой. Мы долго ждали чуда. Вот появились пять бутонов. Я всё ходил и любовался ими. (26 слов)

$9 - \square = 2$


$\square + 3 = 8$

$\square + 4 = 5$

$7 - \square = 1$

Задача № 21

В вазе лежало 3 орешка. К ним положили ещё 2 орешка. Сколько орешков стало в вазе?



Задание № 24


Миша и щенок.

Миша шёл по тропинке к лесу. Вдруг выбежал маленький щенок. Он жалобно скулил. Мальчик взял щенка и назвал Жучкой. Щенок вырос и стал большой и доброй собакой. (30 слов)

$>$, $<$ или $=$ $2 + 1 \square 4 - 2$
 $5 - 3 \square 1 + 1$

Задача № 24

Пять утят грелись на полянке. 3 из них убежали за стрекозой. Сколько утят осталось на полянке?



Задание № 27

Змейка.

Под широким листом затаилась змейка. Я стал наблюдать. Пёс Шарик прыгнул на старый пенёк. Змейка скрылась в кустах.

(19 слов)

$$5 + 3 + 2 + 1 =$$


$$8 - 2 - 1 - 0 =$$

$$4 + 2 - 1 + 1 =$$

$$3 + 3 - 2 + 0 =$$

Задача № 27

В одном домике живут 4 гнома, а во втором домике – на 2 гнома больше. Сколько гномиков живёт в двух домах?



Задание № 29

Шалун.

Гулял ветер по широкому лугу. Он был весь в белых шарах.
Пролетел пулей шалун над лугом. Вот чудо. Пропали шары.


(21 слово)

Дополни до 10

9	5	3	8	1	7	4	2	6

Задача № 29

Из 8 кусочков торта только 5 украшены розочками. Сколько кусочков торта не имеют таких украшений?



Задание № 30

Урожай.

Наступил разгар лета. Хлеба созрели. С утра едет по хлебному полю комбайн. Стоит сухая погода. Люди спешат собрать урожай.

(20 слов)

$$4 + \square = 10 - \square$$

$$\square - 3 > 2 + \square$$

Задача № 30

На клумбе расцвело 7 астр: 4 розовые, а остальные – сиреневые. Сколько сиреневых астр расцвело на клумбе?

