

Задание 7

1. Вставь пропущенные орфограммы.

2. Спиши текст. В третьем предложении подчеркни грамматическую основу предложения, обозначь части речи.

3. В тексте у глаголов обозначь число, время, род.

Будь другом.

В л_сах стало мало мур_вейников. Гибнут они от рук ч_ловека. Расковырял ч_ловека мур_вейник и уш_л. А маленьким мур_вьям трудно во__тановить свой дом. Тысячи вр_дителей леса уничт_жают за лето мурав_и. Однажды на дубовую рощу н_пало полчище гус_ниц. Они ог_ляли д_ревья. И вдру_ гус_ницы стали быстро спускаться вни_ . Это их т_щили мур_вьи. Л_сные друж_нники сп_сли корабельный лес. (57 слов)

*Реши уравнения

$$7200 : X = 1600 : 2$$

$$X \cdot 700 = 2100 \cdot 2$$

*Выполни вычисления, проставляя порядок действий

$$41 + 2 \cdot (8 : 4) + 21 =$$

$$4080 - 7200 : 90 + 350 =$$

$$3 \cdot 800 + 320 : 40 + 400 \cdot 4 =$$


$$900 - 350 : 7 + 430 =$$

$$2100 : 70 + 30 \cdot 3 - 470 : 47 =$$

$$4900 : 70 - 5400 : 600 + 230 =$$

Задача № 7

Длина прямоугольника 7 см, а ширина 6 см. Чему равен периметр (три способа) прямоугольника и его площадь?



Задание 8

1. Вставь пропущенные орфограммы.

2. Спиши текст. В 3,7 предложениях подчеркни грамматическую основу предложения, над существительными обозначь число, род, падеж.

Рыбаки.


Ст_рик и кот Епифан всегда рыбачили вместе. Ст_рик удил рыбу, а кот с_дел рядом. Мален_кую ры_ку ст_рик отд_вал коту. Однажды Епифана рядом не ок_залось. Кот был на плотах. Стал ст_рик наблюдать за ним. Епифан л_жит на бр_вне, _пустил лапу в воду. Пр_плыла стайка рыб. Кот подц_пил ко_тями одну и с_ел! Теперь он сам рыбак.

(55 слов)

*Реши уравнения

$$60 \cdot X = 2700 \cdot 2$$

$$49000 : X = 21000 : 3$$



*Сделай вычисления, проставляя порядок действий

$$56 - 3 \cdot (17 - 12) =$$

$$284 + 81 : 3 \cdot 2 =$$

$$6 \cdot 16 + 96 : 4 =$$


$$650 - 3 \cdot 14 + 102 =$$

$$360 : (840 - 750) \cdot 6 =$$

$$(34 + 13) + (27 + 46) \cdot 0 =$$

Задача № 8

Масса тыквы 14 кг. Это в 2 раза больше, чем масса кабачка. Какова масса кабачка и тыквы вместе?



Задание 9

1. Вставь пропущенные орфограммы.
2. Спиши текст. Во втором предложении подчеркни грамматическую основу, обозначь части речи.
3. Сделай фонетический разбор слова ПЛАЧ.

Отважный поступок.

Костя г_товился идти в школу. Вдру_ он почу_ствовал запах гари. Мал_чик осм_трел квартиру и вышел на лес_ницу. Из с_седней кв_ртиры п_лзли струйки дыма. Разд_вался де_кий плач_. Костя схв_тил т_пор и бросился к дв_ри. Дверь рухнула. Хлынул дым. Р_бёнок л_жал у порога. Костя схв_тил м_лыша и выб_жал с ним на улицу. (52 слова)

***Продолжи запись:

$\frac{1}{2}$ часа = ___ мин $\frac{1}{2}$ мин. = ___ сек $\frac{1}{2}$ м = ___ см
 $\frac{1}{2}$ сут. = ___ ч $\frac{1}{2}$ г = ___ мес $\frac{1}{2}$ мес = ___ дней (в месяце 30 дней)
 $\frac{1}{2}$ см = ___ мм $\frac{1}{2}$ дм = ___ см $\frac{1}{2}$ кг = ___ г

***Сравни величины (расписываем):

4дм □ 35см 30мин □ 1час 5мм □ 5м

Задача № 9

Периметр квадрата 8 см. Чему равна его сторона? Начерти и найди его площадь. Всё, что находим, записываем в решение с пояснением.

